

Les animaux des TAAF

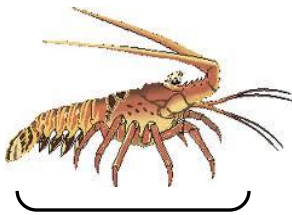
dossier écoles élémentaires



CE2


Question de masse.

Observe les dessins et souligne la bonne réponse.



L'animal le plus lourd est :

La langouste
L'éléphant de mer
Ils ont le même poids



L'animal le plus léger est :

Le cormoran
L'orque
Ils ont le même poids



L'animal le plus lourd est :

Le gorfou
Le manchot royal
Ils ont le même poids

CE2

Observation.

Note le type de phrase et donne la réponse aux phrases 2 et 3



1. Cette photo a été prise en Terre Adélie.
2. Combien d'animaux sont déjà sur la banquise ?
3. Donne le nom de ces animaux.
4. On ne voit pas la tête du premier animal.....

impérative

déclarative

négative

interrogative

Réponse phrase 2 :

Réponse phrase 3 :

CE2

Calcul.

Si chaque dauphin de Commerson mange 1 poisson, combien de dauphins n'auront rien à manger ?




3	4	5	6	7
---	---	---	---	---

CE2

Quelle heure est-il ?

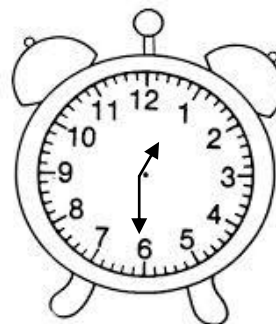
Donne l'heure à laquelle chaque animal a pris son repas.



L'otarie a mangé à



L'éléphant de mer a mangé à



Le manchot royal a mangé à